



Ce document a été numérisé par le CRDP
d'Alsace pour la Base Nationale des Sujets
d'Examens de l'enseignement
professionnel

EP1 REALISATION

On vise : la fabrication et la pose de deux panneaux moulurés et d'une cimaise, plan joint à l'échelle 1/1. La pose s'effectuera dans une cabine fournie par le centre d'examen.

On donne : la vue de face, les deux coupes et les profils. La hauteur du panneau mouluré est de 50 centimètres et sa largeur est de 31 centimètres.

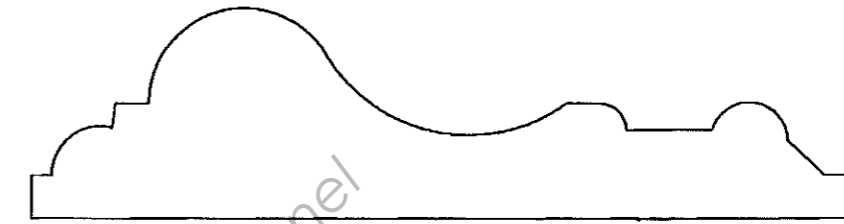
On demande :

- La réalisation de traînages droits
- La réalisation d'un assemblage de traînages droits par coupes à 45 degrés
- La réalisation d'un moule staffé (le moule sera noté)
- La réalisation de deux épreuves staffées
- La pose des deux panneaux et de la cimaise

On exige : le respect des cotes, une finition soignée et le nettoyage du lieu de travail

CRITERES D'EVALUATION


Découpes de zincs	1 ^{er} zinc /-1 pt par défaut	/10
	2 ^{ème} zinc /-1 pt par défaut	/10
Maîtrise des techniques	Traînage de la moulure panneau /-2pts par défaut	/10
	Traînage de la cimaise /-2pts par défaut	/10
Maîtrise de la technique du staff	Staff du moule /-4pts par défaut	/20
	Staff du 1 ^{er} panneau /-2pts par défaut	/10
	Staff du 2 ^{ème} panneau /-2pts par défaut	/10
Respect des cotes	Hauteur de la cimaise	/10
	Hauteur des panneaux moulurés	/10
	Intervalle entre les deux panneaux	/10
	Hauteur du sol aux panneaux	/10
	Hauteur des panneaux à la cimaise (-5pts par mm d'erreur)	/10
Respect des équerrages	Coupes de la cimaise	/10
	Equerrage du moule	/10
	Alignement des deux panneaux (Aucun défaut)	/10
Respect des finitions	20/15/12/10/05/0	/20
	Très bien/bien/assez bien/passable/non acquis	
	TOTAL	/180
	NOTE	/20



SECTION D

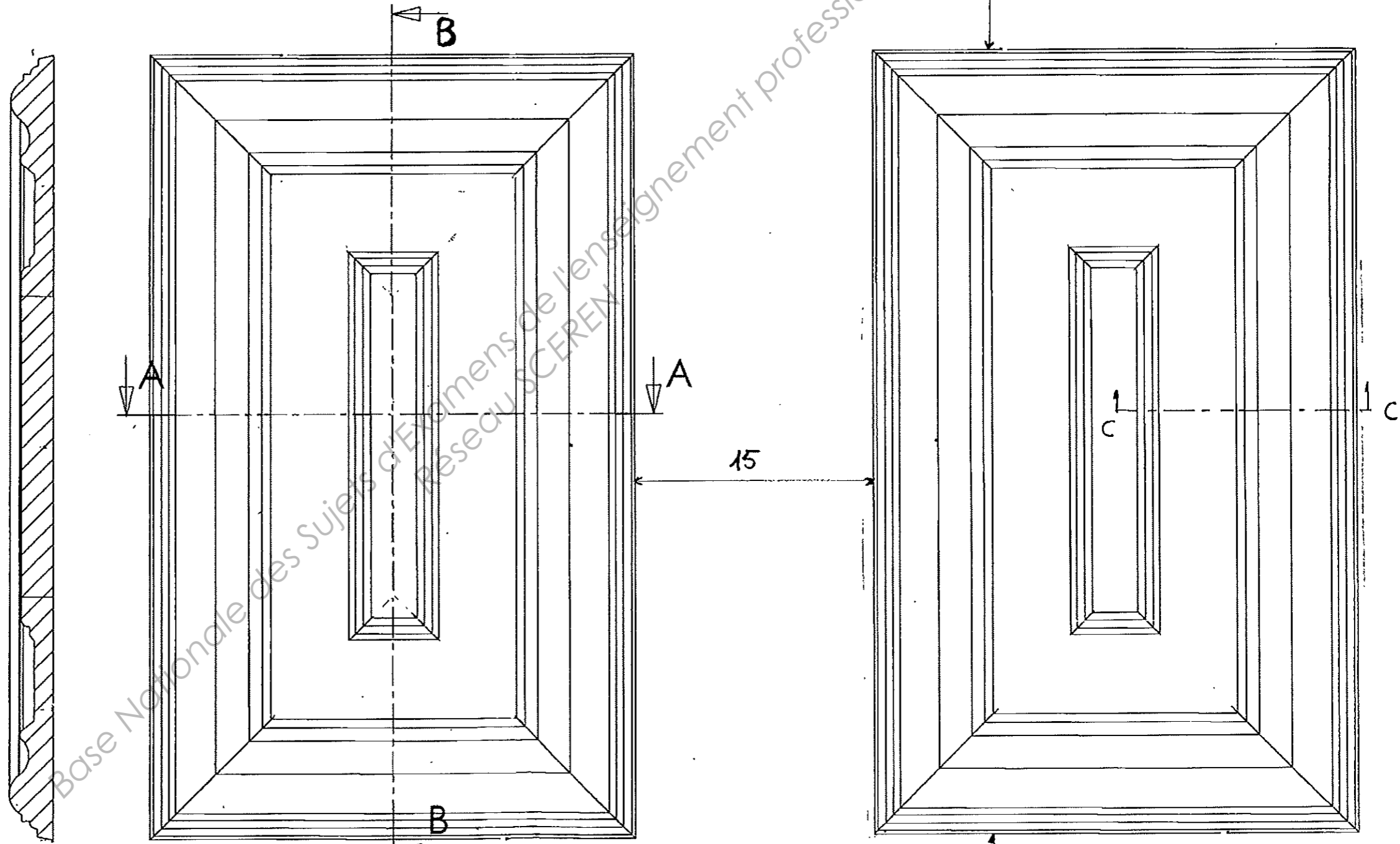
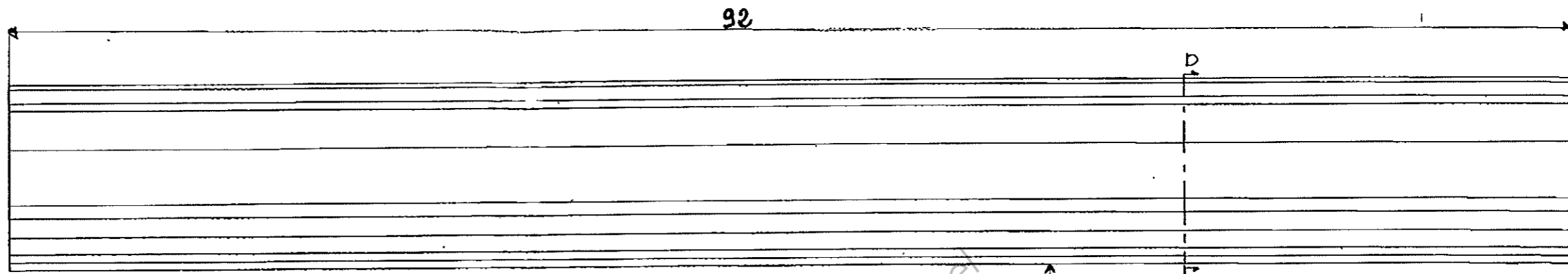
ECHELLE 1/ 1

SECTION C



C.A.P. : STAFFEUR ORNEMANISTE	SUJET	Coéf : 12 (avec l'écrit)	SESSION JUN 2011
Epreuve : EP 1. REALISATION.	Durée : 20 h.	Code : 5023311	Page : 1/2

ÉCHELLE 1/3



COUPE AA

COUPE BB

C.A.P. : STAFFEUR ORNEMANISTE	SUJET	Coéf : 12 (avec l'écrit)	SESSION JUN 2011
Epreuve : EP 1. REALISATION.	Durée : 20 h.	Code : 5023311	Page : 2/2

175
SOL